

**Единый государственный экзамен  
по ИНФОРМАТИКЕ и ИКТ**

**Инструкция по выполнению работы**

Экзаменационная работа состоит из 27 заданий с кратким ответом, выполняемых с помощью компьютера.

На выполнение экзаменационной работы по информатике и ИКТ отводится 3 часа 55 минут (235 минут).

Экзаменационная работа выполняется с помощью специализированного программного обеспечения, предназначенного для проведения экзамена в компьютерной форме. При выполнении заданий Вам будут доступны на протяжении всего экзамена текстовый редактор, редактор электронных таблиц, системы программирования. Расположение указанного программного обеспечения на компьютере и каталог для создания электронных файлов при выполнении заданий Вам укажет организатор в аудитории.

На протяжении сдачи экзамена доступ к сети Интернет запрещён.

При выполнении заданий можно пользоваться черновиком. **Записи в черновике не учитываются при оценивании работы.**

Баллы, полученные Вами за выполненные задания, суммируются. Постарайтесь выполнить как можно больше заданий и набрать наибольшее количество баллов.

***Желаем успеха!***

В экзаменационных заданиях используются следующие соглашения.

1. Обозначения для логических связок (операций):
  - a) *отрицание* (инверсия, логическое НЕ) обозначается  $\neg$  (например,  $\neg A$ );
  - b) *конъюнкция* (логическое умножение, логическое И) обозначается  $\wedge$  (например,  $A \wedge B$ ) либо  $\&$  (например,  $A \& B$ );
  - c) *дизъюнкция* (логическое сложение, логическое ИЛИ) обозначается  $\vee$  (например,  $A \vee B$ ) либо  $|$  (например,  $A | B$ );
  - d) *следование* (импликация) обозначается  $\rightarrow$  (например,  $A \rightarrow B$ );
  - e) *тождество* обозначается  $\equiv$  (например,  $A \equiv B$ ). Выражение  $A \equiv B$  истинно тогда и только тогда, когда значения  $A$  и  $B$  совпадают (либо они оба истинны, либо они оба ложны);
  - f) символ 1 используется для обозначения истины (истинного высказывания); символ 0 – для обозначения лжи (ложного высказывания).
2. Два логических выражения, содержащих переменные, называются *равносильными* (эквивалентными), если значения этих выражений совпадают при любых значениях переменных. Так, выражения  $A \rightarrow B$  и  $(\neg A) \vee B$  равносильны, а  $A \vee B$  и  $A \wedge B$  неравносильны (значения выражений разные, например, при  $A = 1, B = 0$ ).
3. Приоритеты логических операций: инверсия (отрицание), конъюнкция (логическое умножение), дизъюнкция (логическое сложение), импликация (следование), тождество. Таким образом,  $\neg A \wedge B \vee C \wedge D$  означает то же, что и  $((\neg A) \wedge B) \vee (C \wedge D)$ .  
Возможна запись  $A \wedge B \wedge C$  вместо  $(A \wedge B) \wedge C$ . То же относится и к дизъюнкции: возможна запись  $A \vee B \vee C$  вместо  $(A \vee B) \vee C$ .
4. Обозначения Мбайт и Кбайт используются в традиционном для информатики смысле – как обозначения единиц измерения, чьё соотношение с единицей «байт» выражается степенью двойки.

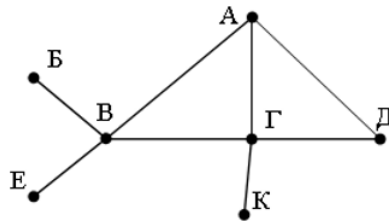


Часть 1

Ответами к заданиям 1–23 являются число, последовательность букв или цифр, которые следует записать в БЛАНК ОТВЕТОВ № 1 справа от номера соответствующего задания, начиная с первой клеточки, без пробелов, запятых и других дополнительных символов. Каждый символ пишете в отдельной клеточке в соответствии с приведёнными в бланке образцами.

1 На рисунке справа схема дорог N-ского района изображена в виде графа, в таблице содержатся сведения о протяжённости каждой из этих дорог (в километрах).

	П1	П2	П3	П4	П5	П6	П7
П1		6	7	5			3
П2	6						
П3	7			11			12
П4	5		11		2	4	
П5				2			
П6				4			
П7	3		12				



Так как таблицу и схему рисовали независимо друг от друга, то нумерация населённых пунктов в таблице никак не связана с буквенными обозначениями на графе. Определите, какова протяжённость дороги из пункта А в пункт В. В ответе запишите целое число – так, как оно указано в таблице.

Ответ: \_\_\_\_\_.

2 Миша заполнял таблицу истинности функции  $(\neg x \wedge \neg y) \vee (y \equiv z) \vee \neg w$ , но успел заполнить лишь фрагмент из трёх различных её строк, даже не указав, какому столбцу таблицы соответствует каждая из переменных w, x, y, z.

				$(\neg x \wedge \neg y) \vee (y \equiv z) \vee \neg w$
0		0	1	0
	0		1	0
0	1	1		0

Определите, какому столбцу таблицы соответствует каждая из переменных w, x, y, z.

В ответе напишите буквы w, x, y, z в том порядке, в котором идут соответствующие им столбцы (сначала буква, соответствующая первому столбцу; затем буква, соответствующая второму столбцу, и т.д.). Буквы в ответе пишите подряд, никаких разделителей между буквами ставить не нужно.

Ответ: \_\_\_\_\_.

3 В фрагменте базы данных представлены сведения о родственных отношениях. На основании приведённых данных определите идентификатор (ID) родной сестры Лемешко В.А.


Таблица 1

ID	Фамилия_И.О	Пол
1072	Онищенко А.Б.	Ж
1028	Онищенко Б.Ф.	М
1099	Онищенко И.Б.	М
1178	Онищенко П.И.	М
1156	Онищенко Т.Н.	Ж
1065	Корзун А.И.	Ж
1131	Корзун А.П.	М
1061	Корзун Л.А.	Ж
1217	Корзун П.А.	М
1202	Зельдович М.А.	Ж
1027	Витюк Д.К.	Ж
1040	Лемешко В.А.	Ж
1046	Месяц К.Г.	М
1187	Лукина Р.Г.	Ж
1093	Фокс П.А.	Ж
1110	Дрк Г.Р.	Ж

Таблица 2

ID_Родителя	ID_Ребенка
1072	1072
1027	1099
1028	1072
1028	1099
1072	1040
1072	1202
1072	1217
1099	1156
1099	1178
1110	1156
1110	1178
1131	1040
1131	1202
1131	1217
1187	1061
1187	1093

Ответ: \_\_\_\_\_.





**4** Для кодирования некоторой последовательности, состоящей из букв А, Б, В, Г, Д, Е, решили использовать неравномерный двоичный код, удовлетворяющий условию Фано. Для буквы А использовали кодовое слово 10; для буквы Б – кодовое слово 11. Какова наименьшая возможная сумма длин всех шести кодовых слов?

Примечание. Условие Фано означает, что никакое кодовое слово не является началом другого кодового слова. Это обеспечивает возможность однозначной расшифровки закодированных сообщений.

Ответ: \_\_\_\_\_.

**5** На вход алгоритма подаётся натуральное число N. Алгоритм строит по нему новое число R следующим образом.

1. Строится двоичная запись числа N.
2. К этой записи дописываются справа ещё два разряда по следующему правилу:
  - а) складываются все цифры двоичной записи, и остаток от деления суммы на 2 дописывается в конец числа (справа). Например, запись 11100 преобразуется в запись 111001;
  - б) над этой записью производятся те же действия – справа дописывается остаток от деления суммы цифр на 2.

Полученная таким образом запись (в ней на два разряда больше, чем в записи исходного числа N) является двоичной записью искомого числа R.

Укажите такое наименьшее число N, для которого результат работы алгоритма больше 105. В ответе это число запишите в десятичной системе счисления.

Ответ: \_\_\_\_\_.

**6** Определите число, которое будет напечатано в результате выполнения программы. Для Вашего удобства программа представлена на четырёх языках программирования.

С++	Паскаль
<pre>#include &lt;iostream&gt; using namespace std; int main() {     int s = 0;     int n = 90;     while(s + n &lt; 135)     {         s = s + 20;         n = n - 10;     }     cout &lt;&lt; s;     return 0; }</pre>	<pre>var s, n: integer; begin     s := 0;     n := 90;     while s + n &lt; 135 do     begin         s := s + 20;         n := n - 10     end;     writeln(s) end.</pre>
Python	Алгоритмический язык
<pre>s = 0 n = 90 while s + n &lt; 135:     s = s + 20     n = n - 10 print(s)</pre>	<pre>алг нач     цел n, s     s := 0     n := 90     нц пока s + n &lt; 135         s := s + 20         n := n - 10     кц     вывод s кон</pre>

Ответ: \_\_\_\_\_.

**7** После преобразования растрового 1024-цветного графического файла в в 4-цветный формат его размер уменьшился на 3 Кбайт. Каков был размер исходного файла в байтах?

Ответ: \_\_\_\_\_.



- 8 Все 3-буквенные слова, составленные из букв У, Ч, Е, Н, И, К, записаны в алфавитном порядке и перенумерованы, начиная с 1.

Ниже приведено начало списка.

1. ЕЕЕ
2. ЕЕИ
3. ЕЕК
4. ЕЕН
5. ЕЕУ
6. ЕЕЧ
7. ЕИЕ

....

Под каким номером в списке идёт первое слово, которое начинается с буквы Н?

Ответ: \_\_\_\_\_.

- 9 Откройте файл электронной таблицы, содержащей вещественные числа – результаты ежечасного измерения температуры воздуха на протяжении трёх месяцев. Найдите количество суток, в которых среднее значение температуры не превышало 20 °С.

Ответ: \_\_\_\_\_.

**Задание выполняется с использованием прилагаемых файлов.**

- 10 С помощью текстового редактора определите, сколько раз, не считая сносок, встречается слово «девица» или «Девица» в тексте романа в стихах А.С. Пушкина «Сказка о царе Салтане, о сыне его славном и могучем богатыре князе Гвидоне Салтановиче и о прекрасной царевне Лебеди». Другой формы слова «девица» учитывать не следует. В ответе укажите только число.

Ответ: \_\_\_\_\_.

- 11 При регистрации в компьютерной системе каждому пользователю выдаётся пароль, состоящий из 15 символов и содержащий только символы из 8-символьного набора: А, В, С, D, E, F, G, H. В базе данных для хранения сведений о каждом пользователе отведено одинаковое и минимально возможное целое число байт. При этом используют посимвольное кодирование паролей, все символы кодируют одинаковым и минимально возможным количеством бит. Кроме собственно пароля, для каждого пользователя в системе хранятся дополнительные сведения, для чего отведено 24 байт на одного пользователя.

Определите объём памяти (в байтах), необходимый для хранения сведений о 30 пользователях. В ответе запишите только целое число – количество байт.

Ответ: \_\_\_\_\_.

- 12 Исполнитель Редактор получает на вход строку цифр и преобразовывает её. Редактор может выполнять две команды, в обеих командах  $v$  и  $w$  обозначают цепочки цифр.

**заменить ( $v, w$ )**  
**нашлось ( $v$ )**

Определите количество нулей в строке, получившейся в результате применения приведённой ниже программы к входной строке, состоящей из единицы, за которой следуют 55 нулей подряд.

В ответе запишите только количество нулей в получившейся строке.

НАЧАЛО

ПОКА нашлось (10) ИЛИ нашлось (1)

ЕСЛИ нашлось (10)

ТО заменить (10, 001)

ИНАЧЕ

ЕСЛИ нашлось (1)

ТО заменить (1, 0)

КОНЕЦ ЕСЛИ

КОНЕЦ ЕСЛИ

КОНЕЦ ПОКА

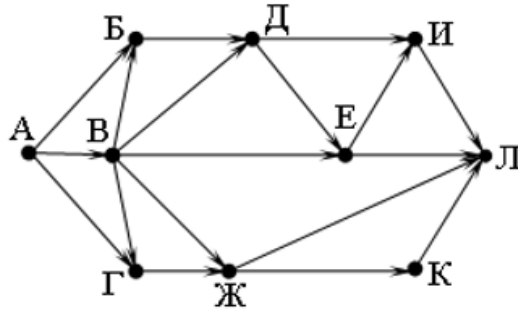
КОНЕЦ

Ответ: \_\_\_\_\_.



- 13 На рисунке – схема дорог, связывающих города А, Б, В, Г, Д, Е, Ж, И, К, Л. По каждой дороге можно двигаться только в одном направлении, указанном стрелкой.

Какова длина самого короткого пути из города А в город Л? Длиной пути считать количество дорог, составляющих этот путь.



Ответ: \_\_\_\_\_.

- 14 Сколько единиц содержится в двоичной записи значения выражения:

$$4^{2015} + 2^{2016} - 5$$

Ответ: \_\_\_\_\_.

- 15 Для какого наименьшего целого неотрицательного числа А выражение  $(x * y < A) \vee (x < y) \vee (x \geq 12)$

тождественно истинно, то есть принимает значение 1 при любых целых неотрицательных x и y?

Ответ: \_\_\_\_\_.

- 16 Алгоритм вычисления значения функции F(n), где n – натуральное число, задан следующими соотношениями:

$$F(n) = 2 \times n - 1 \text{ при } n \leq 3;$$

$$F(n) = 3 \times F(n - 1) + 7, \text{ если } n > 3.$$

Чему равно значение функция F(15)?

Ответ: \_\_\_\_\_.

- 17 Рассматривается множество целых чисел, принадлежащих числовому отрезку [4221; 17523], которые в восьмеричной системе счисления оканчиваются на 6 и в четверичной системе счисления оканчиваются на 2.

Найдите сумму таких чисел и минимальное из них.

В ответе запишите два целых числа: сначала сумму, затем минимальное число.

Для выполнения этого задания можно написать программу или воспользоваться редактором электронных таблиц.

Ответ: \_\_\_\_\_.

- 18 Квадрат разлинован на N×N клеток (1 < N < 17). Исполнитель Робот может перемещаться по клеткам, выполняя за одно перемещение одну из двух команд: вправо или вверх. По команде вправо Робот перемещается в соседнюю правую клетку, по команде вверх – в соседнюю верхнюю. При попытке выхода за границу квадрата Робот разрушается. Перед каждым запуском Робота в каждой клетке квадрата лежит монета достоинством от 1 до 100. Посетив клетку, Робот забирает монету с собой; это также относится к начальной и конечной клетке маршрута Робота.

Определите максимальную и минимальную денежную сумму, которую может собрать Робот, пройдя из левой нижней клетки в правую верхнюю. В ответе укажите одно число – сумму максимальной и минимальной сумм.

Исходные данные представляют собой электронную таблицу размером N×N, каждая ячейка которой соответствует клетке квадрата.

Пример входных данных:

1	8	8	4
10	1	1	3
1	3	12	2
2	3	5	6

Для указанных входных данных ответом должен быть чисел 50.

Ответ: \_\_\_\_\_.



**19** Два игрока, Петя и Ваня, играют в следующую игру. Перед игроками лежит куча камней. Игроки ходят по очереди, первый ход делает Петя. За один ход игрок может добавить в кучу один камень или десять камней. Например, имея кучу из 15 камней, за один ход можно получить кучу из 16 или 25 камней. У каждого игрока, чтобы делать ходы, есть неограниченное количество камней.

Игра завершается в тот момент, когда количество камней в куче становится не менее 54. Победителем считается игрок, сделавший последний ход, то есть первым получивший кучу, в которой будет 54 или больше камней. В начальный момент в куче было  $S$  камней,  $1 \leq S \leq 53$ .

Укажите минимальное значение  $S$ , когда Петя может выиграть в один ход.

Ответ: \_\_\_\_\_.

**20** Для игры, описанной в предыдущем задании, найдите два таких значения  $S$ , при которых у Пети есть выигрышная стратегия, причём одновременно выполняются два условия:

- Петя не может выиграть за один ход;
- Петя может выиграть своим вторым ходом независимо от того, как будет ходить Ваня.

Найденные значения запишите в ответе в порядке возрастания.

Ответ: \_\_\_\_\_.

**21** Два игры, описанной в задании 19, найдите максимальное значение  $S$ , при котором одновременно выполняются два условия:

- у Вани есть выигрышная стратегия, позволяющая ему выиграть первым или вторым ходом при любой игре Пети;
- у Вани нет стратегии, которая позволит ему гарантированно выиграть первым ходом.

Ответ: \_\_\_\_\_.

**22** Укажите наибольшее натуральное число, при вводе которого эта программа напечатает сначала 3, потом – 24.

Python	Паскаль
<pre>x = int(input()) a, b = 0, 1 while x &gt; 0:     a = a + 1     b = b * (x % 7)     x = x // 7 print(a) print(b)</pre>	<pre>var x, a, b: longint; begin     readln(x);     a := 0; b := 1;     while x &gt; 0 do begin         a := a + 1         b := b * (x mod 7);         x := x div 7;     end;     writeln(a); write(b); end.</pre>
Алгоритмический язык	C++
<pre>алг начало     цел x, a, b     ввод x     a := 0     b := 1     нц пока x &gt; 0         a := a + 1         b := b * mod(x, 7)         x := div(x, 7)     кц     вывод a, nc, b кон</pre>	<pre>#include &lt;iostream&gt; using namespace std;  int main(){     int x, a, b;     cin &gt;&gt; x;     a = 0 ; b = 1;     while(x &gt; 0){         a = a + 1;         b = b * (x % 7)         x = x / 7;     }     cout &lt;&lt; a &lt;&lt; endl &lt;&lt; b; }</pre>

Ответ: \_\_\_\_\_.

vk.com/ege100ballov



23 Исполнитель M17 преобразует число, записанное на экране. У исполнителя есть три команды, которым присвоены номера:

1. Прибавить 1
2. Прибавить 2
3. Умножить на 3

Первая из них увеличивает число на экране на 1, вторая увеличивает его на 2, третья умножает на 3. Программа для исполнителя M17 – это последовательность команд.

Сколько существует таких программ, которые преобразуют исходное число 3 в число 13 и при этом траектория вычислений программы содержит числа 9 и 11? Траектория должна содержать оба указанных числа.

Траектория вычислений программы – это последовательность результатов выполнения всех команд программы. Например, для программы 132 при исходном числе 7 траектория будет состоять из чисел 8, 24, 26.

Ответ: \_\_\_\_\_.

*Задание выполняется с использованием прилагаемых файлов.*

24 Текстовый файл состоит не более чем из  $10^6$  символов X, Y и Z. Определите сколько раз встречаются комбинации из 5 подряд стоящих букв X или из 6 подряд стоящих букв Y или из 7 подряд стоящих букв Z. Для выполнения этого задания следует написать программу.

Ответ: \_\_\_\_\_.

25 Напишите программу, которая ищет среди целых чисел, принадлежащих числовому отрезку [1542; 9412], числа, которые являются простыми. Число называется простым, если делится только на 1 и на самого себя. Запишите в ответе сумму всех таких чисел.

Ответ: \_\_\_\_\_.

*Задание выполняется с использованием прилагаемых файлов.*

26 Системный администратор раз в неделю создаёт архив пользовательских файлов. Однако объём диска, куда он помещает архив, может быть меньше, чем суммарный объём архивируемых файлов.

Администратор хочет сэкономить место на диске для хранения архивов. Из-за этого он выбирает K наименьших по объёму архивов и удаляет их. Тем самым экономит место на диске.

Известно, какой объём занимает файл каждого пользователя.

По заданной информации об объёме файлов пользователей, определите сэкономленное администратором место.

Входные данные.

В первой строке входного файла находятся два числа, расположенные через пробел: N – количество пользователей (натуральное число большее 10, не превышающее 1000000) и K – количество файлов, которые администратор удаляет ( $K < N$ ).

В следующих N строках находятся значения объёмов файлов каждого пользователя (все числа натуральные, не превышающие 100), каждое в отдельной строке.

Запишите в ответе одно число: сэкономленное администратором место.

Ответ: \_\_\_\_\_.





**Задание выполняется с использованием прилагаемых файлов.**

- 27 На вход программы поступает последовательность из  $N$  целых положительных чисел, все числа в последовательности различны. Рассматриваются все пары различных элементов последовательности, находящихся на расстоянии не меньше, чем 5 (разница в индексах элементов пары должна быть 5 или более, порядок элементов в паре неважен). Необходимо определить количество таких пар, для которых произведение элементов делится на 29.

Описание входных и выходных данных.

Даны два входных файла (файл 27-А и файл 27-В). В первой строке файла задаётся количество чисел  $N$  ( $5 \leq N \leq 1000$ ). В каждой из последующих  $N$  строк записано одно целое положительное число, не превышающее 10000.

В качестве результата программа должна вывести одно число: количество пар элементов, находящихся в последовательности на расстоянии не меньше, чем 5, в которых произведение элементов кратно 29.

Пример организации исходных данных во входном файле:

7  
58  
2  
3  
5  
4  
1  
29

Пример выходных данных для приведённого выше примера входных данных:

3

Пояснение. Из 7 заданных элементов с учётом допустимых расстояний между ними можно составить 3 произведения:  $58*1$ ,  $58*29$ ,  $2*29$ . Из них на 29 делятся 3 произведения.

В ответе запишите два числа через пробел: ПЕРВОЕ – число, полученное из первого файла; ВТОРОЕ – число, полученное из второго файла.

Ответ: \_\_\_\_\_.

### О проекте «Пробный ЕГЭ каждую неделю»

Данный ким составлен командой всероссийского волонтерского проекта «ЕГЭ 100баллов» <https://vk.com/ege100ballov> и безвозмездно распространяется для любых некоммерческих образовательных целей.

**Нашли ошибку в варианте?**

**Напишите нам, пожалуйста, и мы обязательно её исправим!**

Для замечаний и пожеланий: [https://vk.com/topic-10175642\\_41259310](https://vk.com/topic-10175642_41259310)

(также доступны другие варианты для скачивания)

СОСТАВИТЕЛЬ ВАРИАНТА:	
<b>ФИО:</b>	Дзеранов Иосиф Витальевич
<b>Предмет:</b>	Информатика
<b>Стаж:</b>	5 лет
<b>Регалии:</b>	Основатель онлайн-школы BeeGeek. Преподаватель информатики в онлайн-школе BeeGeek
<b>Аккаунт ВК:</b>	<a href="https://vk.com/josefdzeranov">https://vk.com/josefdzeranov</a>
<b>Сайт и доп. информация:</b>	<a href="https://stepik.org/users/1825018/teach">https://stepik.org/users/1825018/teach</a> - все курсы





**Система оценивания экзаменационной работы по информатике и ИКТ**

За правильный ответ на задания 1–24 ставится 1 балл; за неверный ответ или его отсутствие – 0 баллов.

За верный ответ на задание 25 ставится 2 балла; за ошибочные значения только в одной строке ответа ИЛИ за отсутствие не более одной строки ответа ИЛИ присутствие не более одной лишней строки ответа ставится 1 балл. В остальных случаях – 0 баллов.

За верный ответ на задание 26 ставится 2 балла; если значения в ответе перепутаны местами ИЛИ в ответе присутствует только одно верное значение (второе неверно или отсутствует) – ставится 1 балл. В остальных случаях – 0 баллов.

За верный ответ на задание 27 ставится 2 балла; если значения в ответе перепутаны местами ИЛИ в ответе присутствует только одно верное значение (второе неверно или отсутствует) – ставится 1 балл. В остальных случаях – 0 баллов.

№ задания	Ответ
1	11
2	zyxw
3	1202
4	16
5	26
6	100
7	3840
8	109
9	30
10	3
11	900
12	111
13	3
14	2016
15	122
16	4517245
17	18076810 4222
18	1518
19	44
20	3342
21	41
22	323
23	56
24	16963
25	4927407
26	169
27	0 5346

vk.com/ege100ballov

